

ВСЕРОССИЙСКАЯ ОЛИМПИАДА ШКОЛЬНИКОВ  
ПО ИСТОРИИ 2019–2020 уч. г.  
ШКОЛЬНЫЙ ЭТАП  
5 класс

***Уважаемый участник!***

При выполнении работы внимательно читайте текст заданий.

Содержание ответа вписывайте в отведённые поля, записи ведите чётко и разборчиво.

За каждый правильный ответ вы можете получить определённое членами жюри количество баллов, не выше указанной максимальной оценки.

Сумма набранных баллов за все решённые вопросы – итог вашей работы. Максимальное количество баллов – 50.

Задания считаются выполненными, если вы вовремя сдали их членам жюри.

Время на выполнение работы – 60 минут.

***Желаем успеха!***

1. Перед вами изображения инструментов. Назовите профессию учёного, использующего их в своей работе.



Ответ.

Максимум за задание – 2 балла.

2. Верны ли следующие утверждения о представленном изображении («да» – «нет»)? Ответы внесите в таблицу.

1. Учёные, к которым относится изображённый на иллюстрации человек, занимаются поиском останков первобытных людей.
2. Учёные – коллеги изображённого человека изучают только первобытную эпоху.
3. На заднем фоне изображено жилище первобытного человека.









Ответ.

1	2	3

Максимум за задание – 6 баллов.

3. Люди, жившие много веков назад, видели и изображали окружающий мир своеобразно. Задача историка – расшифровать то, что они создали. Перед вами изображения животных, сделанные в эпоху древнего мира и средних веков. Вам необходимо узнать изображённое животное и внести ответ (название животного) в таблицу.

1		2	
3		4	
5		6	

**Ответ.**

1	
2	
3	
4	
5	
6	

**Максимум за задание – 12 баллов.**

**4. Расставьте даты в верной хронологической последовательности.**

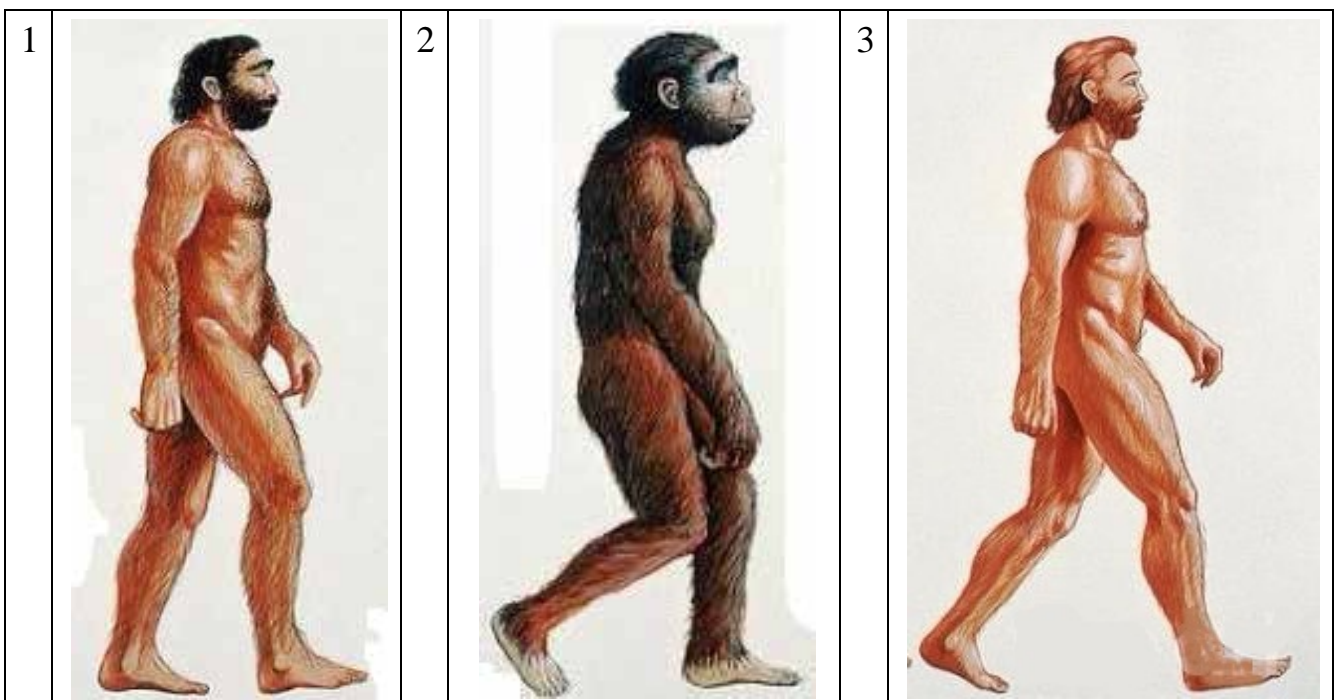
- 1) IV век до н. э.
- 2) 104 год до Р. Х.
- 3) 6999 год от Сотворения мира
- 4) 1879 год н. э.
- 5) XVII век н. э.


**Ответ.**

--	--	--	--	--

**Максимум за задание – 4 балла.**

**5. Рассмотрите предложенные изображения и выполните задания.**





**5.1.** Заполните пропуск в предложении: «Изображения отражают разные этапы процесса биологической \_\_\_\_\_ человека».

**Ответ.** \_\_\_\_\_

**5.2.** Расставьте эти изображения в верной хронологической последовательности данного процесса.

**Ответ.**

--	--	--	--	--

**Максимум за задание – 6 баллов.**

**6.** Соотнесите названия представителей отряда приматов с представленными изображениями (см. рисунок на предыдущей странице).

- А) кроманьонец
- Б) дриопитек
- В) неандерталец

**Ответ.**

А	Б	В

**Максимум за задание – 6 баллов.**

7. Рассмотрите карту и выполните предложенные задания.



7.1. Укажите цифру, которой обозначен древнейший земледельческий район в истории человечества.

Ответ. \_\_\_\_\_

7.2. Укажите цифру, которой обозначено место расположения пещеры Ласко, в которой были найдены наскальные изображения животных.

Ответ. \_\_\_\_\_

7.3. Укажите цифру, которой обозначено место, где Луис Лики нашёл останки древнейшего первобытного человека.

Ответ. \_\_\_\_\_

**Максимум за задание – 6 баллов.**

8. Укажите порядковые номера медалей, которые связаны с событиями Великой Отечественной войны 1941–1945 гг.

1		2	
3		4	

5		6	
7		8	

Ответ. \_\_\_\_\_

Максимум за задание – 8 баллов.

**Максимум за работу – 50 баллов.**